



Rewarding Learning

ADVANCED SUBSIDIARY (AS)
General Certificate of Education
2023

Uimhir Lárionaid

--	--	--	--	--

Uimhir Iarrthóra

--	--	--	--	--

Matamaitic

Aonad Measúnaithe AS 2

ag measúnú

Matamaitic Fheidhmeach



[SMT21]

SMT21

DÉ MÁIRT 30 BEALTAINE, IARNÓIN

AM

1 uair 15 nóiméad.

TREOIR D'IARRTHÓIRÍ

Scríobh d'Uimhir Lárionaid agus d'Uimhir Iarrthóra sna spásanna chuige sin ag barr an leathanaigh seo.

Ní mór duit na ceisteanna a fhreagairt sna spásanna chuige sin.

Ná scríobh taobh amuigh den achar bhoscáilte ar gach leathanach ná ar leathanaigh bhána.

Comhlánaigh le dúch dubh amháin. Ba chóir ceisteanna ar gá líníocht nó sceitseáil a dhéanamh iontu a chomhlánú le peann luaidhe HB. **Ná scríobh le peann glóthaí.**

Ní mór d'iarrthóirí **gach** ceist i Roinn A agus Roinn B a fhreagairt.

Ba chóir fad cothrom ama a chaitheamh ar gach roinn. Taispeáin go soiléir forbairt iomlán do fhreagraí. Freagraí nach bhfuil obair taispeánta iontu, is féidir nach bhfaighidh siad an chreidiúint iomlán.

Ba cheart na freagraí a thabhairt ceart go dtí trí fhigiúr shuntasacha mura ndeirtear a mhalairt. Tá cead agat áireamhán grafach nó eolaíoch a úsáid sa pháipéar seo.

EOLAS D'IARRTHÓIRÍ

Is é 70 an marc iomlán don pháipéar seo. Is é 35 an marc iomlán atá ar fáil do gach roinn den pháipéar seo. Léiríonn figiúirí atá priontáilte ar thaobh na lámhe deise de leathanaigh na marcanna atá ag dul do gach ceist nó do gach cuid de cheist.

Ba chóir go mbeadh léaráidí le do fhreagraí san áit ar cuí sin agus is féidir go mbronnfar marcanna orthu. Glac leis go bhfuil $g = 9.8 \text{ m s}^{-2}$, mura sonraítear a mhalairt.

Tá cóip den **leabhrán Foirmlí Matamaitice agus Táblaí** curtha ar fáil.

Síos tríd an pháipéar seo is é $\ln z$ an nodaireacht logartamach a úsáidtear áit a nótaítear go bhfuil $\ln z \equiv \log_e z$

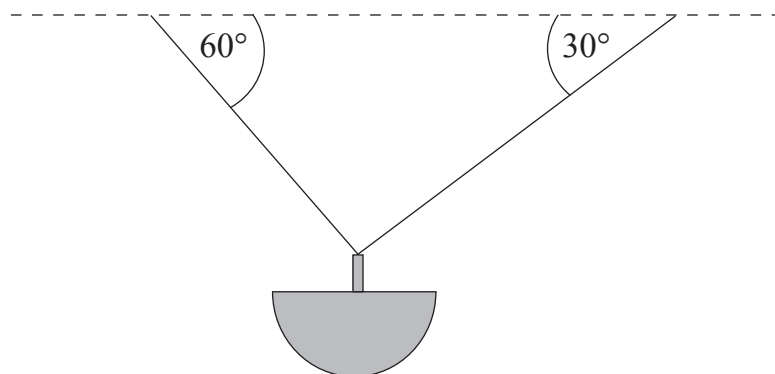
13314.05



24SMT2101

2 Taispeánann **Fíor 1** thíos bláthchiseán crochta atá ar crochadh ar dhá shreang.

Tá na sreanga ceangailte de dhá phointe fhosaithe ar an leibhéal chothrománach chéanna.



Fíor 1

Tá an ciseán ar crochadh i gcothromaíocht, agus na sreanga claonta ar 60° agus ar 30° leis an chothromán.

Is é 2 kg mais an chiseáin.

- (i) Tarraing léaráid a thaispeánann na fórsaí seachtracha uilig atá ag gníomhú ar an bhláthchiseán chrochta trína shamhaltú mar cháithnín. [2]





LEATHANACH BÁN

NÁ SCRÍOBH AR AN LEATHANACH SEO

(Leanann ceisteanna ar an chéad leathanach eile)

[Tiontaigh an leathanach

13314.05



24SMT2107

3 Taistealaíonn carr feadh bóthar díreach, cothrománach.

Is é 15 m s^{-1} a threoluas tosaigh.

Sna chéad 5 shoicind dá ghluaisne, luasghéaraíonn sé go haonfhoirmeach ar 2 m s^{-2}

Sna chéad T soicind eile, taistealaíonn sé ar threoluas tairiseach de $V \text{ m s}^{-1}$

Ansin, luasmhoillíonn an carr go haonfhoirmeach agus tagann sé ar fos.

Is é 60 soicind am iomlán an turais.

(i) Sceitseáil graf treoluis is ama do thuras iomlán an chairr.

[2]



- 4 Taispeánann **Fíor 2** thíos dhá bhloc bheaga, P agus Q, dar maiseanna 4 kg agus 5 kg faoi seach.

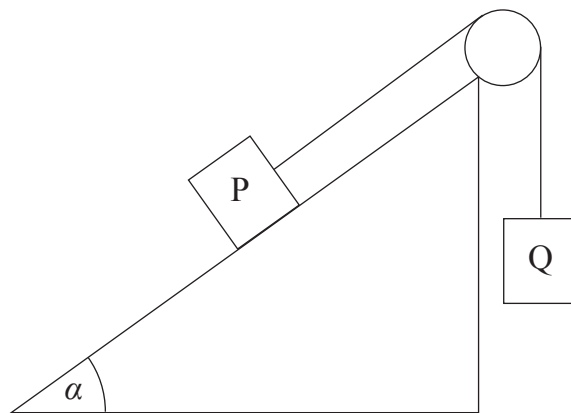
Tá na blocic ceangailte le chéile le sreang éadrom, neamhleasteach a théann thar ulóg mhín atá fosaithe ag barr an phlána.

Luíonn P ar phlána garbh atá claonta leis an chothromán ar uillinn α , an áit a bhfuil

$$\sin \alpha = \frac{3}{5}$$

Tá Q ar crochadh gan srian faoin ulóg agus an tsreang teann.

Is é $\frac{1}{4}$ an chomhéifeacht frithchuimilte idir P agus an plána.



Fíor 2

Scaoiltear an córas ó fhos.

- (i) Faigh luasghéarú na mbloc.

[8]

.....

.....

.....

.....

.....

.....

.....

.....

.....





Handwriting practice area with 24 horizontal dotted lines.

[Tiontaigh an leathanach

13314.05



24SMT2111

ROINN B

Staitistic

5 (i) Míneigh an difríocht idir na téarmaí pobal agus sampla. [2]

.....

.....

.....

.....

.....

.....

.....

.....

In ionad saoire mór, tá cúig réalta ag 15% de na hóstáin, tá ceithre réalta ag 55% acu agus tá trí réalta ag an chuid eile de na hóstáin.

Ba mhaith le taighdeoir meastachán a dhéanamh ar an mheánphraghas le stopadh thar oíche in óstán san ionad saoire ag úsáid na bpraghsanna ó shampla de na hóstáin.

(ii) Míneigh cad chuige nach mbeadh sampla randamach simplí cuí sa chomhthéacs seo. [2]

.....

.....

.....

.....

.....

.....

.....

.....

(iii) Luaigh modh samplála a bheadh níos cuí. [1]

.....

.....

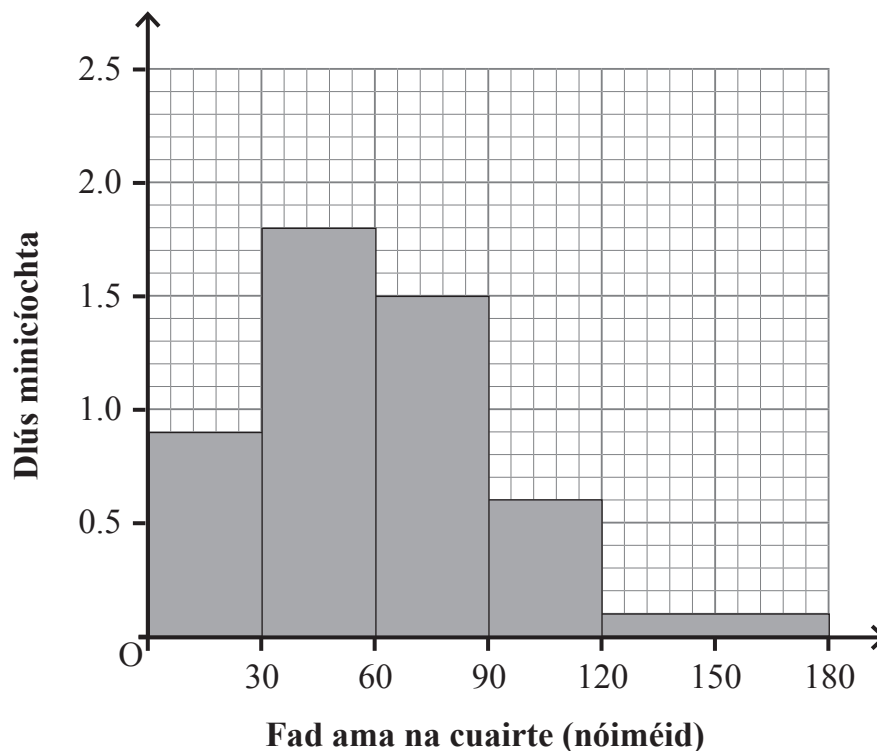
.....

[Tiontaigh an leathanach



- 6 Taifeadh faid ama na gcuartheanna a bhí ag feithiclí i gcarrchlós ionaid siopadóireachta ar dhá Shatharn i ndiaidh a chéile.

Taispeánann an histeagram i bhFíor 3 thíos fad ama na cuairte, ina nóiméid, ag 150 feithicil ar an chéad Satharn.



Fíor 3

- (i) Taispeáin gurb é 1 uair an chloig go díreach meánfhad ama na cuairte. [3]

.....

.....

.....

.....

.....

.....

.....

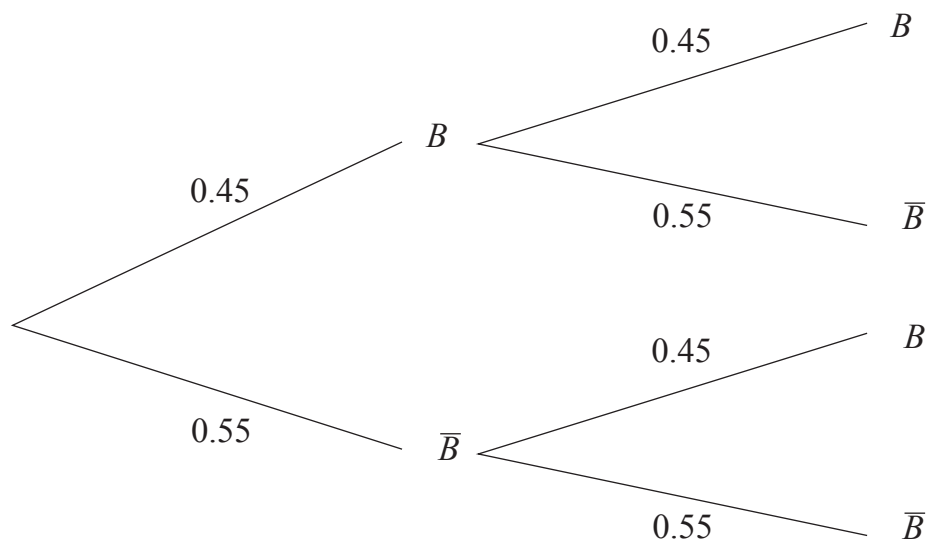
.....

.....



- 7 Measann gníomhaire eastáit, óna thaithí féin, gurb é 0.45 an dóchúlacht go ndéanfaidh cliant tairiscint le réadmhaoin a cheannach i ndiaidh dó breathnú air.

Taispeánann an léaráid chrainn i bhFíor 4 thíos na torthaí féideartha i ndiaidh do bheirt chliant breathnú ar réadmhaoin, an áit arb é B an teagmhas go ndéanann an cliant tairiscint leis an réadmhaoin a cheannach.



Fíor 4

- (i) Taispeáin gurb é 0.495 an dóchúlacht nach ndéanann ach cliant amháin tairiscint ar an réadmhaoin. [2]

.....

.....

.....

.....

.....

.....

.....

.....

.....

.....



Agus an dáileadh dóchúlachta a shainaithin tú i gcuid (ii) in úsáid agat, ríomh an dóchúlacht go bhfaighfear:

(iii) 10 dtairiscint go beacht;

[3]

.....

.....

.....

.....

.....

.....

.....

.....

.....

.....

.....

.....

.....

.....

.....

(iv) níos lú ná 5 thairiscint.

[3]

.....

.....

.....

.....

.....

.....

.....

.....

.....

.....

.....

.....

.....

.....

.....





LEATHANACH BÁN

NÁ SCRÍOBH AR AN LEATHANACH SEO

(Leanann ceisteanna ar an chéad leathanach eile)

[Tiontaigh an leathanach

13314.05



24SMT2119

SEO DEIREADH AN SCRÚDPHÁIPÉIR

LEATHANACH BÁN
NÁ SCRÍOBH AR AN LEATHANACH SEO

13314.05



24SMT2122





LEATHANACH BÁN

NÁ SCRÍOBH AR AN LEATHANACH SEO

13314.05



24SMT2123

NÁ SCRÍOBH AR AN LEATHANACH SEO

Don Scrúdaitheoir amháin	
Uimhir Ceiste	Marcanna
1	
2	
3	
4	
5	
6	
7	
8	

Marc Iomlán	
--------------------	--

Uimhir Scrúdaitheora

Cuireadh isteach ar chead chun an t-ábhar cóipchirt uile a atáirgeadh.
I gcásanna áirithe is féidir nár éirigh le CCEA teagmháil a dhéanamh le húinéirí cóipchirt agus beidh sé sásta na hadmhálacha sin a fágadh ar lár a chur ina gceart amach anseo ach é a chur ar an eolas.

13314.05/2



24SMT2124